

Simularea Județeană a Examenului Național
de Bacalaureat Proba E.d) Geografie
Decembrie 2025

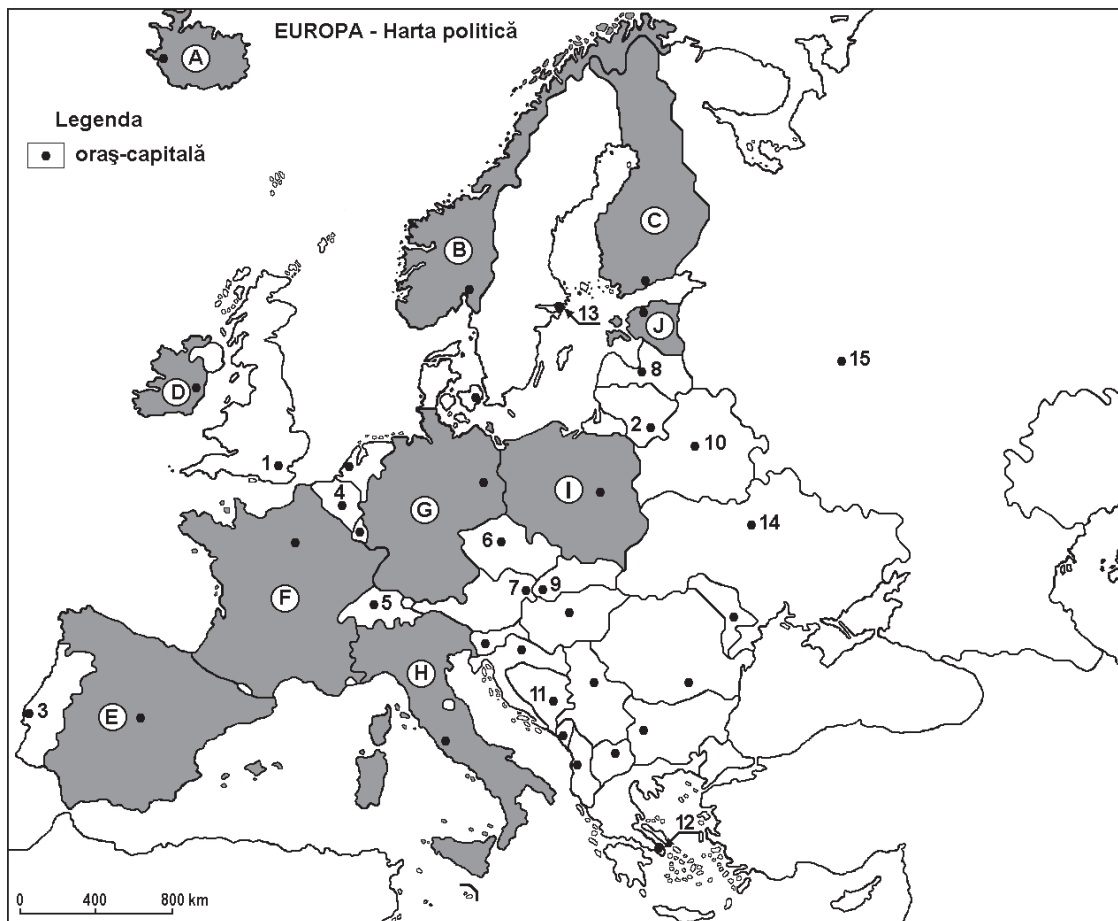
Profilul umanist din filiera teoretică, profilul servicii din filiera tehnologică și toate profilurile și specializările din filiera vocațională, cu excepția profilului militar

- Toate subiectele sunt obligatorii. Se acordă zece puncte din oficiu.
- Timpul efectiv de lucru este de trei ore.

1 Văltozat

I. Tétel

(30 pont)



A fenti térkép az I. A–E feladathoz tartozik. A térképen betűkkel országokat, számokkal fővárosokat jelöltek.

A. Nevezzétek meg:

1. a B és D betűvel jelölt országok nevét;
2. két olyan szigetet, amelyek a H betűvel jelölt országokhoz tartoznak.

4 pont

B. Írjátok a a vizsgalapra az alábbi mondatokat kiegészítő helyes válaszokat :

1. A Pó-síkság a ... betűvel jelölt ország területén található.
2. Korzika szigete a ... betűvel jelölt országhoz tartozik.
3. Európa legészakibb pontja a ... betűvel jelölt országban található.

6 pont

C. Îrjați a vizgalapra az alábbi mondatoknak megfelelő helyes válaszoknak **csak a betűjelét**:

1. A Skandináv-félszigeten helyezkedik el nagy része a ... betűvel jelölt országnak:

a. B	b. E	c. G	d. A	2 pont
------	------	------	------	--------
2. A Pireneusok hegyvonulata az alábbi betűkkel jelölt országokban található:

a. B és C	b. G és I	c. H és F	d. E és F	2 pont
-----------	-----------	-----------	-----------	--------
3. A ... betűvel jelölt országnak van kijárata az Északi-tengerre:

a. E	b. D	c. H	d. G	2 pont
------	------	------	------	--------
4. A mediterrán éghajlat a ... betűvel jelölt államra jellemző:

a. A	b. B	c. I	d. H	2 pont
------	------	------	------	--------
5. A hercinai-hegységképződés során alakultak ki:

a. Alpok	b. Kárpátok	c. Fekete-erdő	d. Pireneusok	2 pont
----------	-------------	----------------	---------------	--------

D. Mutassatok be három különbséget a térképen **B** és **H** betűkkel jelölt országok **éghajlata** között.

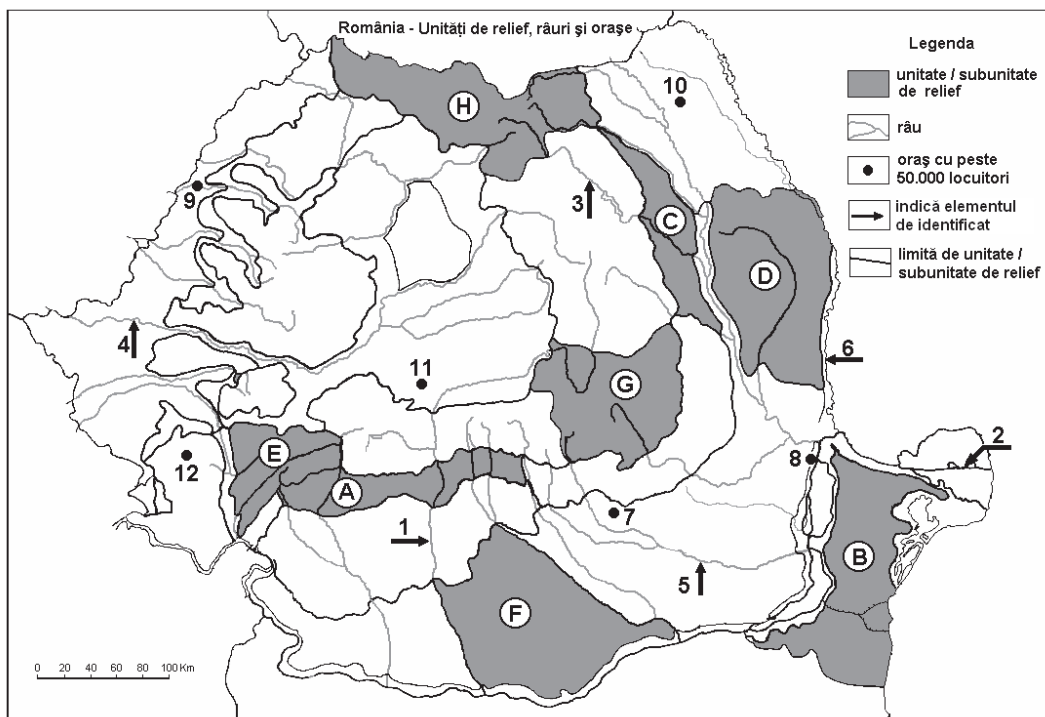
1. **megjegyzés:** A különbségek a következő éghajlati elemek bármelyikére vonatkozhatnak: éghajlati tényezők, éghajlattípus, évi/nyári/téli középhőmérsékletek, hőmérsékleti amplitúdó, évi/nyári/téli átlagos csapadék, gyakori szelek és más éghajlati jellemzők.
 2. **megjegyzés:** A teljes pontszám csak abban az esetben adható meg, ha a különbségeket összehasonlítóképpen és nem külön-külön írja le.
 3. **megjegyzés:** **Nem** kötelező az országok megnevezése, hivatkozhattok rájuk az őket jelölő számokkal is.
- 6 pont**

E. 1. Nevezétek meg egy okot, ami az Izland szigetén tapasztalható aktív vulkanizmust magyarázza.

2. Mutassatok be egy okot, amiért ma is található gleccserek az Alpokban. **4 pont**

II. Tétel

(30 pont)



A fenti térkép a II. A–E feladathoz tartozik. A térképen betűk jelölik a domborzati egységeket, az 1–6 szám folyókat, a 7–12 szám pedig városokat.

A. Nevezétek meg:

1. A **H** és **B** betűvel jelölt domborzati egységeket;

2. Két olyan domborzati egységet, ahol előfordul a glaciális domborzat.

4 pont

B. Írjátok a vizsgalapra az alábbi mondatokat kiegészítő helyes válaszokat:

1. Három párhuzamos sávban elhelyezkedő különféle (vulkáni, metamorf és üledékes) kőzetek a ... betűvel jelölt egységben található.

2. Románia délen ... nevű országgal határos.

3. A Retyezát Nemzeti Park a ... betűvel jelölt domborzati egységben található.

6 pont

C. Írjátok a vizsgalapra az alábbi mondatoknak megfelelő helyes válaszoknak **csak a betűjelét**:

1. Románia legidősebb kőzetei a ... betűvel jelölt domborzati egységben találhatók:

a. B

b. D

c. G

d. H

2 pont

2. A Peleaga-csúcs a ... betűvel jelölt egységben található:

a. A

b. E

c. G

d. H

2 pont

3. A Román-alföld egyik része a ... betűvel jelölt domborzati alegység:

a. B

b. D

c. E

d. F

2 pont

4. Glaciális domborzat található a ... betűvel jelölt domborzati egységben:

a. B

b. C

c. D

d. H

2 pont

5. A ... betűvel jelölt domborzati egység határos a Moldvai Köztársasággal:

a. A

b. G

c. D

d. F

2 pont

D. Mutassatok be három különbséget a térképen E és F betűkkel jelölt domborzati egységek **domborzata** között.

1. **megjegyzés:** A különbségek a domborzat/felszín következő jellemzőinek bármelyikére vonatkozhatnak: kialakulási mód, közettani felépítés, tengerszint feletti magasságok, tagoltság, domborzati lépcsők, felszíntípusok, a vonulatok és a fontosabb völgyek iránya, a medencék elhelyezkedése és más felszíni jellemzők.

2. **megjegyzés:** A teljes pontszám csak abban az esetben adható meg, ha a különbségeket összehasonlításképpen és nem külön-külön írja le.

3. **megjegyzés:** Nem kötelező a nagytájak/tájegységek megnevezése, hivatkozhat rájuk az őket jelölő számokkal is.

6 pont

E.1. Írjátok egy okot ami indokolja a glaciális domborzat jelenlétét a Fogarasi havasokban.

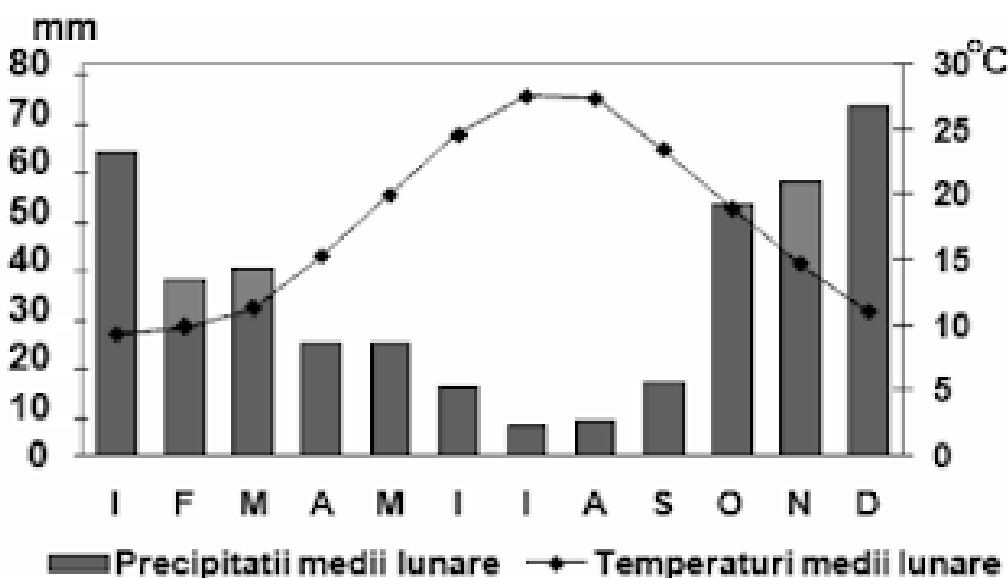
2. Nevezetek meg egy okot, ami megmagyarázza, hogy miért eltérő az évi közepes hőmérséklet Románia északi és déli részén.

4 pont

III. Tétel

(30 pont)

A lenti grafikon a III. A–B feladathoz tartozik; egy európai meteorológiai állomás havi középhőmérsékletét és havi csapadékmennyiségét mutatja.



INSPECTORATUL ȘCOLAR JUDEȚEAN CLUJ

A. Írjátok le a vizsgalapra:

1. a havi középhőmérséklet maximális értékét és a hónapot, amikor ezt mérték;
2. a havi csapadék minimumértékét és a hónapot amikor ezt mérték.

4 pont

B. Nevezzétek meg:

1. az éves átlagos csapadék kiszámításának módját;
2. az évi közepes hőingást (amplitudót);
3. az éghajlattípust, melyet a klimadiagram ábrázol.

6 pont

C. Adottak a következő Európa partvonalát tagoló domborzati formák: Vizcayai, Botteni, Calais, Korfu, Kréta, Finn, Gibraltár, Izland, Otranto és Szardínia. Írjátok le, hogy a felsoroltak közül melyik öböl, sziget vagy szoros.

10 pont

D. Csoportosítsa az alábbi hegységeket a hegységképződési korszak szerint: Balkán-hegység, Grampian-hegység, Harz-hegység, Pireneusok, Skandináv-hegység, Urál-hegység.

6 pont

E. 1. Románia földrajzi fekvésénél fogva „kárpáti ország”. Írjátok két következményt, amely ebből adódik.
2. Nevezzen meg két okot, amelyek szerepet játszanak az éves csapadékeloszlás egyenlőtlenségében Európában.

4 p